

SEGUNDO PERIODO

Semana 18 del 9 al 13 Agosto de 2021

Docente: NANCY RODRIGUEZ Sede: RAÚL SILVA HOLGUÍN Jornada: MAÑANA Grado:1-2

Hola mis apreciados estudiantes estos son los aprendizajes que adquiriremos durante esta semana

MATEMÁTICAS

1. Vamos a sumar con las fichas del dominó. La primera ficha es la roja tiene cuatro puntos mas dos puntos entonces escribes $4 + 2 = 6$, ahora practica tú

2. Reemplaza cada figura geométrica por el valor que le corresponde, luego suma para obtener un total. El primer ejercicio ya está realizado, este te servirá como guía:

1	3	4	5	6	7	8

Przykład: $\text{red circle} + \text{purple triangle} + \text{green square} = ?$ $4 + 6 + 3 = 13$

$\text{blue triangle} + \text{orange trapezoid} + \text{orange trapezoid} = ?$

$\text{purple triangle} + \text{yellow diamond} + \text{red circle} = ?$

$\text{grey pentagon} + \text{green square} + \text{blue triangle} = ?$

$\text{orange trapezoid} + \text{yellow diamond} + \text{green square} = ?$

$\text{blue triangle} + \text{blue triangle} + \text{purple triangle} = ?$

$\text{purple triangle} + \text{yellow diamond} + \text{orange trapezoid} = ?$

$\text{green square} + \text{red circle} + \text{grey pentagon} = ?$

3. Refuerza los 50 primeros números naturales, luego reemplaza la fruta por el número que le corresponde, por ejemplo **uva = 4**, ahora sigue tú

1	2	3		5			8		
11			14		16	17		19	20
21		23		25	26		28		30
31	32		34	35		37		39	40
41	42	43			46			49	50

	<input type="text"/>		<input type="text"/>		<input type="text"/>		<input type="text"/>
	<input type="text"/>		<input type="text"/>		<input type="text"/>		<input type="text"/>
	<input type="text"/>		<input type="text"/>		<input type="text"/>		<input type="text"/>
	<input type="text"/>		<input type="text"/>		<input type="text"/>		<input type="text"/>
	<input type="text"/>		<input type="text"/>		<input type="text"/>		<input type="text"/>

4. Para completar nuestra práctica, realizaremos los siguientes problemas que involucran sumas y restas. Recuerda sumar es aumentar, restar es disminuir.

- Hay 3 arañas y llegan otras 3. ¿Cuántas hay ahora?

$\square + \square = \square$

- Hay 5 vasos y se rompen 2. ¿Cuántos quedan?

$\square - \square = \square$

- Tengo 4 libros y me regala 6 más. ¿Cuántos libros tengo ahora?

$\square + \square = \square$

- Tengo 4 pájaros y se escapa 1. ¿Cuántos quedan?

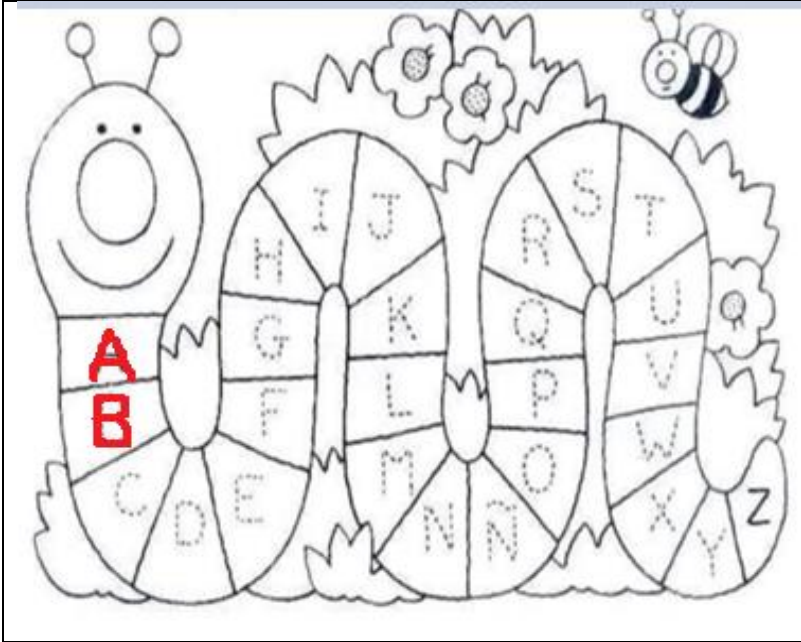
$\square - \square = \square$

ESPAÑOL

1. Práctica y escribe el abecedario en minúscula, para ello completa en cada cuadrado la letra que hace falta:

a	b	c	<input type="text"/>	<input type="text"/>	f	<input type="text"/>	<input type="text"/>	<input type="text"/>	j	<input type="text"/>	<input type="text"/>	<input type="text"/>
n	<input type="text"/>	<input type="text"/>	<input type="text"/>	q	<input type="text"/>	<input type="text"/>	<input type="text"/>	u	<input type="text"/>	<input type="text"/>	<input type="text"/>	<input type="text"/>

2. Colorea el gusanito y con lápiz repinta cada una de las letras que conforman el abecedario



3. Completa el cuadro escribiendo una nueva palabra para cada letra del abecedario.

A	anillo	
B	balón	
C	casa	
CH	choza	
D	dinero	
E	elegante	
F	farol	
G	guantes	
H	hilo	
I	imán	
J	jarra	
K	kumis	
L	lotería	
LL	llama	
M	madera	

4. Recuerdas el fonema **M m**, te presento algunas palabras que inician con **m**, ahora búscalas en la sopa de letras.

molino

muñeca

montañas

Sopa de letras

u	i	o	e	m	u	m	u	p	
m	o	l	i	n	o	l	u	m	a
s	e	r	t	u	m	i	ñ	o	ñ
a	c	v	u	n	i	m	e	m	u
ñ	l	a	e	r	a	h	c	a	n
m	a	r	i	p	o	s	a	l	n
f	h	m	a	c	l	p	e	e	r
m	a	p	a	ñ	o	l	e	t	e
o	p	m	o	c	h	i	l	a	s
a	m	o	n	t	a	ñ	a	s	e

mochila

mariposa

momia

5. Escribe una palabra nueva para cada letra que conforma el abecedario.

N	nubes	
O	ogro	
Ñ	ñandú	
P	pelota	
Q	querido	
R	reina	
S	sapo	
T	termómetro	
U	único	
V	vela	
W	Willy	
X	Ximena	
Y	yogurt	
Z	zapato	

SOCIALES

Mi Colegio MONSEÑOR RAMÓN ARCILA y mi sede: RAÚL SILVA HOLGUÍN son mi segundo hogar



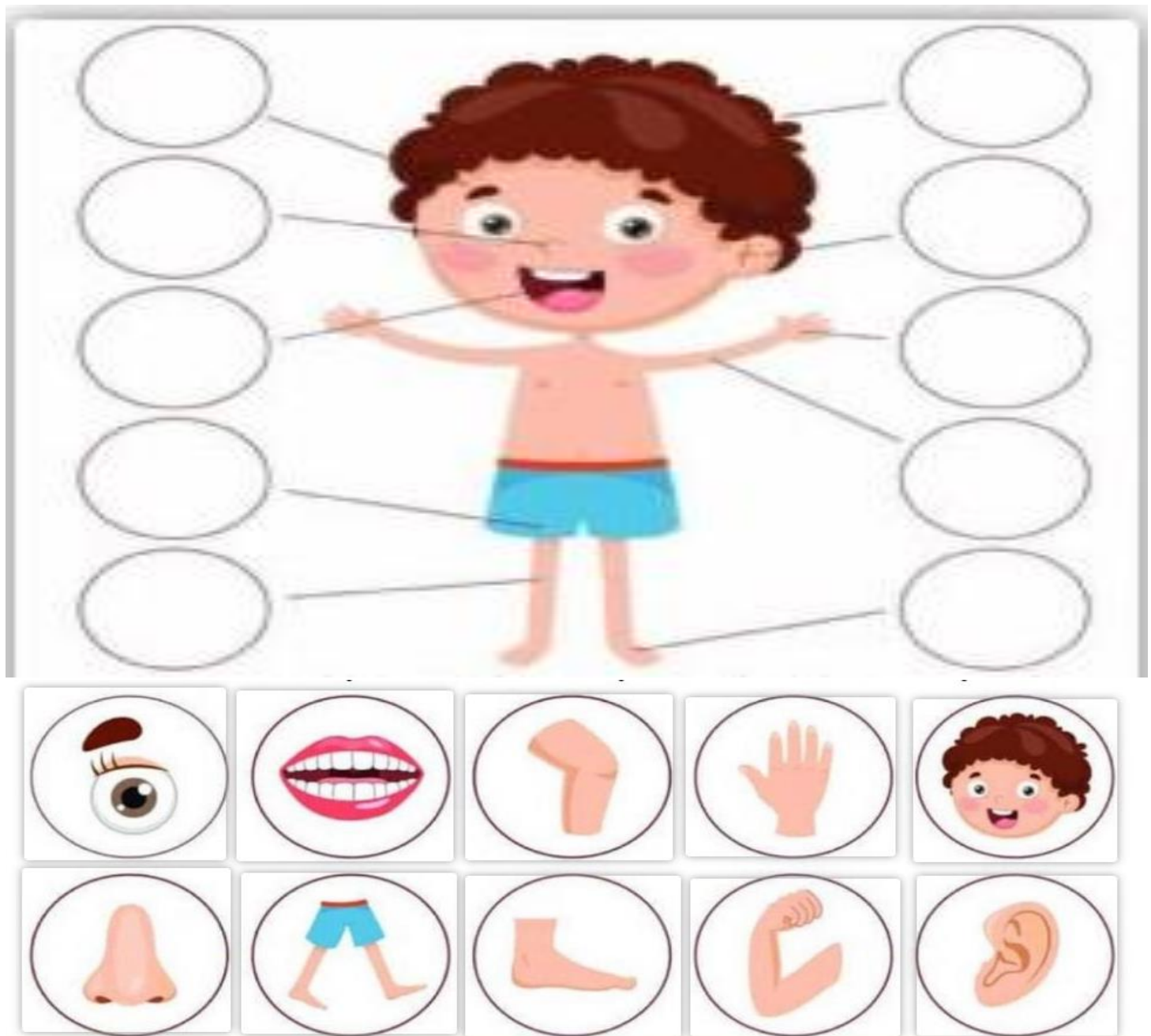
Escribe en tu cuaderno de sociales las siguientes normas que cumpliremos en clase:

<p>EN NUESTRA CLASE</p>	<p>Nos equivocamos y así aprendemos.</p>
<p>Estamos preparados para aprender.</p>	<p>No nos damos por vencidos.</p>
<p>Investigamos y exploramos.</p>	<p>Celebramos el éxito de los demás.</p>
<p>Probamos cosas nuevas, nos arriesgamos.</p>	<p>Ayudamos y perdonamos.</p>
<p>Trabajamos duro.</p>	<p>Decimos 'por favor' y 'gracias'.</p>
<p>Lo hacemos lo mejor que podemos.</p>	<p>Somos amables unos con otros.</p>

NATURALES

<https://www.youtube.com/watch?v=ppUnmAvLhwE>

Observa y analiza el video del cuerpo humano, luego realiza la actividad siguiente: recorta cada circulito que representa una parte del cuerpo y luego pégalo aquí donde esta el cuerpo del niño.



EDUCACIÓN FÍSICA


Con las partes de nuestro cuerpo podemos realizar diferentes ejercicios, une con una línea		Cada una de nuestras manos contiene 5 dedos, marca con una línea según corresponda:	
PARTE DEL CUERPO	EJERCICIO		
		PULGAR	
		ÍNDICE	
		CORAZÓN	
		ANULAR	
		MEÑIQUE	

RELIGIÓN

1. Descubre y busca en la sopa de letras lo que JESÚS nos enseña: Compartir, Amar, Ayudar, Hablar, Perdonar, Jugar.

2. Colorea las partes punteadas y encontrarás al mejor amigo.

Compartir	C O M P A R T I R F
Amar	X D H R M B N L I D
Ayudar	G P A D A Y U D A R
Hablar	C E B U R D M L J S
Perdonar	I R L Y P S Z P U Y
Jugar	P D A W L E C O G R
	J O R Q Y A X E A D
	O P E R D O N A R G



ÉTICA Y VALORES

EL AUTOESTIMA



¡Nosotros pudimos hacerlo!
¡Tú también puedes lograr
lo que te propongas!

El autoestima es quererse a sí mismo y querer a los demás. Significa saber que eres valioso (a) y digno (a). Implica respetarte a ti mismo y enseñar a los demás a hacerlo.



1. Completa:

Me siento alegre cuando _____

Me siento triste cuando _____

Me siento preocupado cuando _____

Me gusta mucho jugar _____

Me siento tranquilo cuando _____

Me siento temeroso cuando _____

Cuando sea grande seré _____

Mi deporte favorito es _____